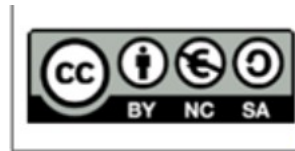



**L'Occident médiéval**  
entre le début du XIIème et la fin du XVème siècle.



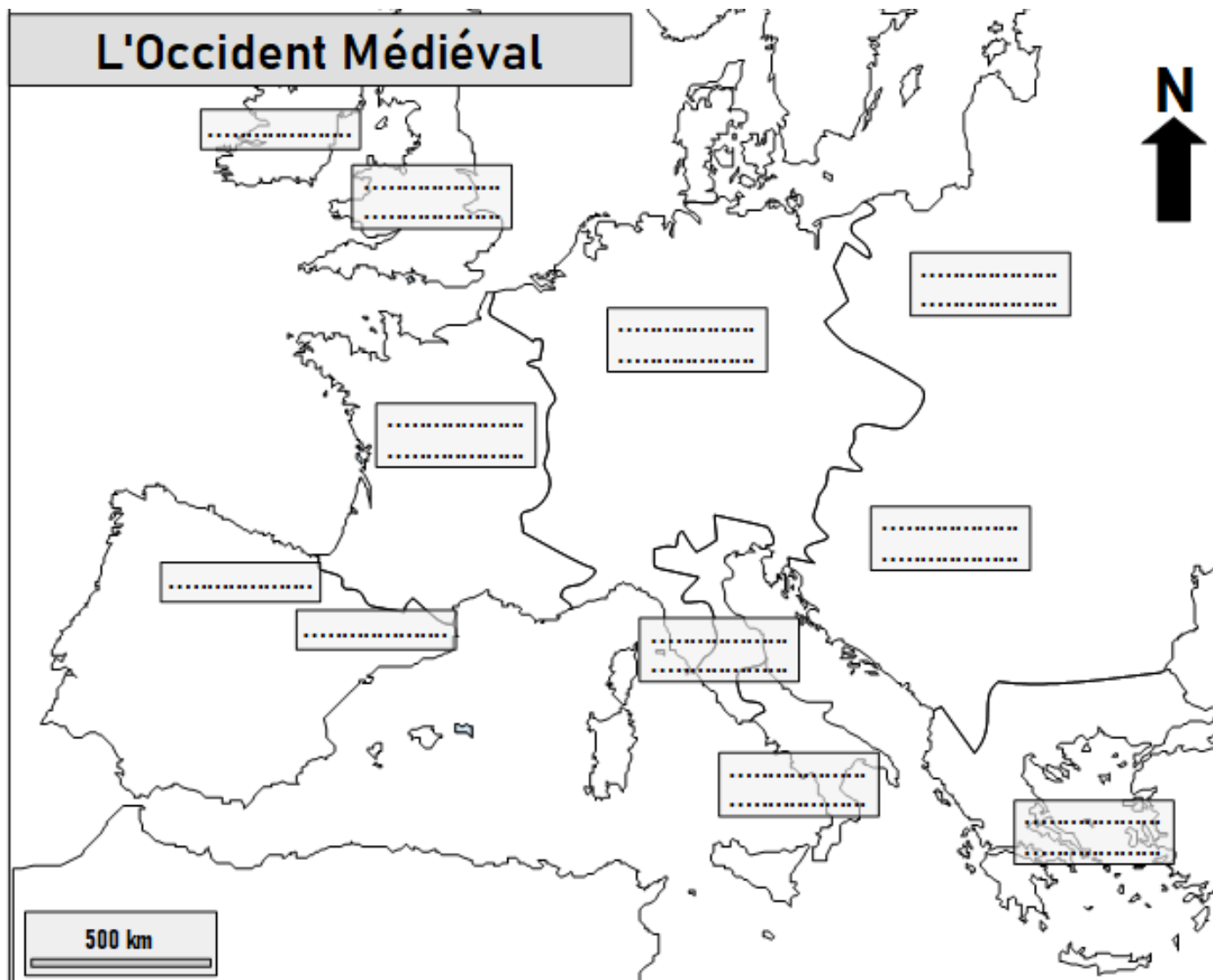
**1-Sur internet, recherchez la date des événements suivants que nous avons déjà étudié, datez-les, et placez-les sur la frise chronologique :**

- Hégire
- Sacre de Charlemagne
- Règne de Justinien

**2-D'après le titre, coloriez au crayon à papier sur la frise la période que vous étudiez.**



3-Recherchez « Occident Médiéval » sur internet, et complétez le nom des territoires indiqué sur la carte ci-dessous.



4-Sur internet, recherchez la page Vikidia « Agriculture au Moyen-Âge » et répondez aux questions suivantes à l'aide des informations trouvées.

-Expliquez ce qu'est « l'agriculture de subsistance ». Expliquez le problème qui se pose. A partir de quel siècle la situation s'améliore-t-elle ?

.....

.....

.....

-Expliquez ce que sont les défrichements. A quelle période ont-ils lieu ? Que permettent-ils ?

.....  
.....  
.....

-Pourquoi peut-on dire que les outils agricoles s'améliorent à l'époque ? Citez un exemple.

.....  
.....  
.....

-Comment s'appelle la nouvelle technique d'assolement (utilisation des sols pour l'agriculture) pratiquée au XIIème siècle ? Expliquez son avantage.

.....  
.....  
.....

-Comment évolue la population européenne entre 1000 et 1300 ? Citez les chiffres pour justifier. A l'aide des réponses aux questions précédentes, expliquez cette évolution.

.....  
.....  
.....  
.....  
.....  
.....  
.....  
.....