


Enigme n° 2

Cycle 2

Cycle 3


Combien de rectangles ?



© MEN


Combien y-a-t-il de rectangles dans la figure suivante ?

Pour les élèves de cycle 3, organisez vos réponses pour justifier que toutes les solutions ont été trouvées.



Aide possible :

Aide 1



Aide 2

