


Observer la façade de la Cathédrale.

Les travaux décidés par le duc Jean V et l'évêque Jean de Malestroit débutent en 1434. En 1498 cette façade est achevée. Elle garde aujourd'hui son aspect du XV<sup>e</sup> siècle.



Photographie extraite de  
*Nantes, La cathédrale, Loire-Atlantique*

Quelle est la principale différence entre le haut et le bas de cette façade ?

.....

Sur la photographie, **tracer** une ligne pour délimiter les deux parties.

**Observer** le portail.



Photographie extraite de *Nantes, La cathédrale, Loire-Atlantique*

**Dessiner** les parties manquantes de cette photographie.

Combien de voûtures comptent le portail central ? .....

les portails des côtés ? .....

**Décrire** le trumeau central : .....


.....

**Observer** le chevet.

**A**u XIX<sup>e</sup> siècle, il a fallu près de cinquante années pour réaliser le nouveau chevet visible aujourd'hui.

- **le chevet avant le XIX<sup>e</sup> siècle**

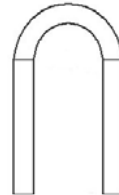
*D'après ce dessin, le clocher est décoré de statues. Certaines sont visibles au musée Dobrée.*



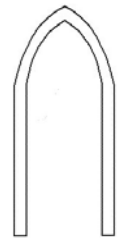
Chevet de la cathédrale avant sa démolition au début du XIX<sup>e</sup> siècle  
Dessin de Hawke (1837)

Sur ce dessin, **colorier** en rouge les éléments aujourd'hui disparus.

Quelle est la forme générale des arcs sur la construction du premier plan ?



arc en plein cintre  
– style roman



arc brisé (en ogive)  
– style gothique

Le chevet d'avant le XIX<sup>e</sup> siècle est de style .....

*Il date en grande partie du XII<sup>e</sup> et XIII<sup>e</sup> siècle.*

- **le chevet actuel**

Combien de chapelles rayonnantes compte le chevet aujourd'hui ? .....

Combien d'arcs-boutants soutiennent la partie centrale (la plus élevée) du chevet ? .....

Le chevet actuel est de style .....

Quels sont les éléments qui permettent de l'affirmer ? .....

.....